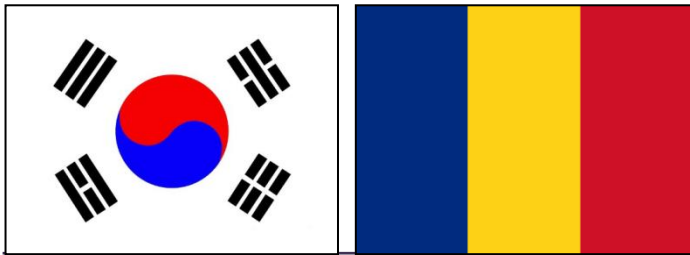


# Observații despre imaginea Coreei în manualele școlare românești



Iunie 2016  
Jeong Jae-yun  
Academia de Studii Coreene  
Centrul pentru Afaceri internaționale

---

2016. 6.

---

정재윤

선임연구원

E-mail: [jjy@aks.ac.kr](mailto:jjy@aks.ac.kr)

---

# Conținut

1. Conținutul manualelor românești
2. Imaginea Coreei de Sud în manualele românești
3. Observații (propuneri) despre imaginea Coreei în manuale

# 1. Conținutul Manualelor Românești

	서명	저자	출판사	출판연도
1	Istorie-Manual pentru clasa a XII-a	Zoe Petre	Corint	2014
2	Istorie-Manual pentru clasa a XII-a	Alexandru Barnea	Corint	2007
3	Istorie - Manual pt clasa a XII-a	Ioan Scurtu Gimnasium	Editura Gimnasium	2007
4	Geografie XII	Silviu Negut 외	Humanitas Educational	2011
5	Sociologie pentru clasa a XI-a	Dorina-Olga Stefanescu 외	Humanitas Educational	2012
6	Istorie XI	Sorin Oane 외	Humanitas Educational	2012
7	Istorie XI	Ioan Ciuperca 외	Corint	2007
8	Istorie XI	Alexandru Barnea 외	Corint	2014
9	Geografie.Manual pentru clasa a XI-a	Octavian Mandrut 외	Corint	2014
10	Geografie cls XI	Silviu Negut 외	Humanitas Educational	2012
11	Istorie a X-a	Valentin Balutoiu 외	Editura Didactica si Pedagogica	2005
12	Istorie a X-a	Alexandru Barnea 외	Corint	2008
13	Istorie x	Mihaela Selevet 외	Corint	2008




# 1. 루마니아 교과서 목록

	서명	저자	출판사	출판연도
14	Geografie - Manual pentru clasa a X-a	Octavian Mandrut 외	Corint	2008
15	Geografie - Manual pentru clasa a X-a	Silviu Negut 외	Humanitas Educational	2012
16	Istorie IX	Stelu Brezan	Bic All	2004
17	Istorie IX	Alexandru Barnea	Corint	2008
18	Istorie IX	Zoe Petre	Corint	2008
19	Istoria Romaniei VIII	Liviu Lazar	Teora	2012
20	Istorie aVIII-a	Sorin Oane 외	Humanitas Educational	2014
21	Istorie a VII-a	Florin Constantiniu	Corint	2008
22	Istorie VII	Sorin Oane 외	Humanitas Educational	2014
23	Geografie Cls 7	Octavian Mandrut	Corint	2008
24	Geografie. Manual pentru clasa a 7-a	Grigore Posea 외	All Educational	1999
25	Geografie. Manual pentru clasa a VII-a	Silviu Negut 외	Humanitas Educational	2014
26	Istorie VI	Andrei Pippidi	Corint	2008


## 2. Imaginea Coreei de Sud în manualele românești

### Războiul coreean

- războiul care putea degenera într-un război nuclear
- Provocarea comunistă a provocat un conflict militar
- blocarea extinderii comunismului a fost blocată dar un rol important
- un conflict major în timpul războiului rece




## 2. Imaginea Coreei de Sud în manualele românești




- APEC este cea mai activă organizație regională. Dintre țările membre Coreea de Sud este o țară foarte dezvoltată

.




Seul



- Ocuparea Coreei de către Japonia,
- Războiul Rece:  
Războiul Coreean


## 2. . Imaginea Coreei de Sud în manualele românești



Consiliul de Securitate ONU: intervenție în conflictul apărut în timpul Războiului Rece

–în 1954 omul de afaceri coreean Moon Son–myeong a înființat biserica de unificare (Unification Church)

–în Coreea s–a răspândit budismul




- Tigrii Asiei (Coreea de Sud, HongKong, Singapore, Taiwan): , creștere economică considerabilă bazată pe diversitate, capital extern, mână de lucru ieftină, transfer de tehnologie

## 2. Imaginea Coreei de Sud în manualele românești




- țări care au reușit o dezvoltare imensă bazată pe o tradiție foarte modestă și se află în centrul atenției (Coreea de Sud, Taiwan,
- Malaysia)




Tigrii Asiei: Coreea de Sud, Hong-Kong, Singapore, Taiwan. Dintr-o perspectivă globală, țările est-asiatice active au relații de competitivitate între acestea. Japonia și Coreea au trecut peste greutățile sfârșitului de secol 20 și continuă să crească. APEC: cel mai activă organizație regională. Dintre țările membre Coreea de Sud este o țară foarte dezvoltată.



## 2. . Imaginea Coreei de Sud în manualele românești



- în anul 1910 Japonia a ocupat Coreea, izbucnirea războiului coreean, Parlamentul României: Anca Petrescu, împreună cu câțiva experți, au fost inspirați de modelul coreean (arhitectură) și au decis să pună în practică planul de construcție a unei clădiri de mare mărime.



În 2010 Coreea de Sud s-a aflat pe locul 15 la competitivitatea națională


Seul: metropolă mondială care are funcții economice multiple

Coreea de Sud a construit megalopolisuri asemănătoare cu cele ale Japoniei

Prin dezvoltarea energiei nucleare produce electricitate

Focus pe industrii de mare mărime internațională, posesia unei mari puteri maritime de transport

## 2. Imaginea Coreei de Sud în manualele românești




: densitatea populației în Coreea de Sud este foarte mare  
Coreea de Sud printr-o industrializare foarte rapidă a devenit cunoscută ca și țară cu rezultate internaționale.

Multe dintre țările dezvoltate din Asia importă materie primă și exportă mașini, electronice, mașinării, etc.

Religie predominantă în Coreea de Sud: Taoismul\*


Prezentarea Peninsulei Coreene

Situația generală a Coreei de Nord și Coreei de Sud.



- \*Religia în Coreea de Sud: Budism 43%, protestantism 34.5%, catolicism 20.6%, confucianism 0.4%, budism won 0.5% etc.

# 2. Imaginea Coreei de Sud în manualele românești



densitatea populației este ridicată  
 Seul este o metropolă a Asiei  
 Tehnică a porțelanului, cultivarea mătăsii și tehnică de prelucrare mătăsii  
 Industrializarea țărilor asiatice: Coreea de Sud reprezintă o putere influentă în lume  
 –țară preponderent maritimă, importatoare de materie primă, industria de automobile  
 Prezentarea situației generale a Peninsulei Coreene și a Coreei de Sud

**PENINSULA COREEA**

**POZIȚIA GEOGRAFICĂ ȘI LIMITILE** Coreea este o peninsulă din sud-estul Asiei, mărginită de Marea Japoniei, în est, și de Marea Galbenă, în vest. Doar în nord este legată de continent, având ca vecini în cea mai mare parte China și, pe mică porțiune, Rusia.

Țărmurile sunt în general joase și nisipoase, cu excepția celui de sud-vest, un adevărat labirint de peninsule și insule (Chejudo ș.a.).

**CADRUL NATURAL** Cea mai mare parte a peninsulei (circa patru cincimi) este ocupată de munți și coline. În rest, de-a lungul litoralului și a principalelor râuri se întindesc câmpiile aluvionare.

Principalele lanțuri muntoase sunt: Munții Coreei centrale, în nord, mai înalți (2744 m în vârful Pektu-san), și Taebaek, în est, paralel cu țărmul Mării Japoniei. Munții Taebaek sunt mai pușini înalți (1700 m altitudine în Kinggang-san/„Muntele de Diamant”) și coboară în trepte spre vest și sud, continuându-se cu dealuri și câmpii.

Există numeroase râuri, cele mai multe curgând spre vest și sud, mai mari fiind Yalu și Taedong.

**Caracterizați țărmurile Peninsulei Coreea.**

● Analizați harta fizico-geografică și numiți principalele trepte de relief.

● Pe baza hărții de la pagina 64 și a informațiilor din text, caracterizați apele încălzite.

● Descrieți peisajul din imaginea de mai sus.

Clima este în cea mai mare parte temperat-continentală, cu excepția fațetei orientale, unde este oceanică.

Peste două treimi din suprafața peninsulei sunt acoperite cu păduri de zăd, molid și brad, în nord, pin, arțar, mesteacăn, magnolie ș.a., în partea centrală, și specii sudice (bambus, dafin, măr-gălbenuș-verde ș.a.), în extremitatea meridională.

Fauna este foarte bogată: lup, urs, căprioara asiatică (indeosebi în nord), tigru, leopard, antilopa gaură, salamandre ș.a. (în sud).

În Peninsula Coreea există două state: Republica Populară Democrată Coreeană (Co-

**Peisaj de pe țărmul estic**

În vârful Pektu-san), și Taebaek, în est, paralel cu țărmul Mării Japoniei. Munții Taebaek sunt mai pușini înalți (1700 m altitudine în Kinggang-san/„Muntele de Diamant”) și coboară în trepte spre vest și sud, continuându-se cu dealuri și câmpii.

Există numeroase râuri, cele mai multe curgând spre vest și sud, mai mari fiind Yalu și Taedong.

**Coreea de Nord și Republica Coreea (Coreea de Sud).** Cele două țări au orientări politice și economice total diferite: Coreea de Nord este o țară comunistă, cu economie planificată, în timp ce Coreea de Sud este o țară capitalistă, cu economie de piață.

Până în 1948 au constituit un singur stat. În prezent duc tratative în vederea reunificării.

**COREEA DE SUD**

● Suprafața: 99 268 km<sup>2</sup>

● Populația: 45,6 mil. loc.

● Capitala: Seul

Este o țară cu una dintre cele mai ridicate densități ale populației de pe glob și cu cea mai mare parte a populației (circa patru cincimi) concentrată în orașe.

Principalele orașe sunt: Seul, unul dintre cele mai mari orașe ale lumii (10 milioane de locuitori), situat în partea vestică a țării, în apropierea țărmului Mării Galbene, Pusan, Taegu, Inchon, Taejon și Kwangju, fiecare cu peste un milion de locuitori.

**Caracterizați țărmurile Peninsulei Coreea.**

● Analizați harta fizico-geografică și numiți principalele trepte de relief.

● Pe baza hărții de la pagina 64 și a informațiilor din text, caracterizați apele încălzite.

● Descrieți peisajul din imaginea de mai sus.

Clima este în cea mai mare parte temperat-continentală, cu excepția fațetei orientale, unde este oceanică.

Peste două treimi din suprafața peninsulei sunt acoperite cu păduri de zăd, molid și brad, în nord, pin, arțar, mesteacăn, magnolie ș.a., în partea centrală, și specii sudice (bambus, dafin, măr-gălbenuș-verde ș.a.), în extremitatea meridională.

Fauna este foarte bogată: lup, urs, căprioara asiatică (indeosebi în nord), tigru, leopard, antilopa gaură, salamandre ș.a. (în sud).

În Peninsula Coreea există două state: Republica Populară Democrată Coreeană (Co-

ASIA ● 65

**COREEA DE NORD**

● Suprafața: 122 513 km<sup>2</sup>

● Populația: 24,3 mil. loc.

● Capitala: Phenian

Este mai întinsă, dar mai puțin populată decât Coreea de Sud, rezalibul o densitate mult mai redusă, dar superioră mediei continentului asiatic.

Circa trei cincimi din populația sunt concentrate în orașe, cele mai mari fiind capitala Phenian (2,4 milioane de locuitori), orașul de Handong, Chongju (over 500 și 700 de mii de locuitori), Nampo, Sinajiu, Wonsan.

Capitala este situată în partea vestică a țării, într-o depresiune din apropierea țărmului Mării Galbene, este veșt mai veche oraș din Peninsula Coreea (datând din mileniiul al II-lea î.Cr.) și un important centru economic și cultural-artistice.

Coreea de Nord se confruntă cu mari dificultăți economice.

Spre deosebire de Coreea de Sud, Coreea de Nord dispune nu numai de rezerve forestiere ci și de unele rezerve de minerale și minerale (cupru, magnezit, mangan, fier, fosfat, molibden și perletoasă), și de un important port maritim (Hamhung).

Industria prelucrătoare, deși dezvoltată, nu funcționează la capacitatea maximă. Activitatea este axată pe ramurile textile (industria de țesături de mătăsii, chimică), la care se adaugă industria textilă, ramură tradițională.

**Explicați marea concentrație a populației în orașe.**

● Menționați ramurile industriei prelucrătoare din Coreea de Sud.


● Numiți planta de cultură și produse care se exportă în cantități mari.

Peninsula (peste 3 milioane de tone anual) este de asemenea important. Coreea de Sud încercând să treacă prin 10 țări ale lumii în acest domeniu.

ASIA




## 2. Imaginea Coreei de Sud în manualele românești



- cea mai dezvoltată regiune din lume
- Cultură specială a Asiei de Est care include Coreea de Nord și Coreea de Mătase
  - coreeană
  - Coreea de Sud este una dintre cei patru dragoni sau tigris
  - prezentarea generală a Coreei de Sud
  - este scris Marea Japoniei în loc de Marea de Est\*



- Se recomandă corectarea "Marea Japoniei" cu "Marea de Est" sau "Marea de Est (Marea Japoniei)"



- Stilul de viață Chinez a fost transmis în China prin intermediul Coreei. Acestea nu au avut nicio legătură cu țările europene.\* ★



Prezentarea Istoriei și Culturii coreene: Tripitaka Koreana, Templul Bulguksa, Grota Seokkuram, Byeokkrando\*, etc.  
Byeokkrando: În perioada Goryeo (935–1392) a fost port maritim al Coreei, Chinei, Japoniei, un port internațional pentru comerț. Și negustorii din Asia Centrală, India, Arabia au făcut comerț aici. Goryeo a fost cunoscut în Vest ca și Korea.



### 3. Observații (propuneri) despre imaginea Coreei în manuale

Dezvoltarea Economică și Tigrii Europei

Cultură: porțelan, viermide mătase

Colonialism Japonez

Răspândirea budismului

Războiul Coreean

Industrializare

Seul

APEC

Arhitectură: Parlamentul României

Religie

Hangeul

Marea de Est

Palmandaejang kyeong :  
Templul Haeinsa,  
Depozitele Tripitakăi Coreene făcute de lemn

Templul Bulguksa și grotă Seokguram

Hangeul (alfabetul coreean)

Seul și Dezvoltarea Economică, materiale vizuale


Hallyu

Coreea de Sud și România înțelegere reciprocă




### 3. Observații (propuneri) despre imaginea Coreei în manuale

Palmandaejang  
kyeong :  
Templul  
Haeinsa,  
Depozitele  
Tripitakăi  
Coreene făcută  
de lemn.



Templul Bulguksa  
și grotă  
Seokguram





### 3. Observații (propuneri) despre imaginea Coreei în manuale

Panorama  
Seulului

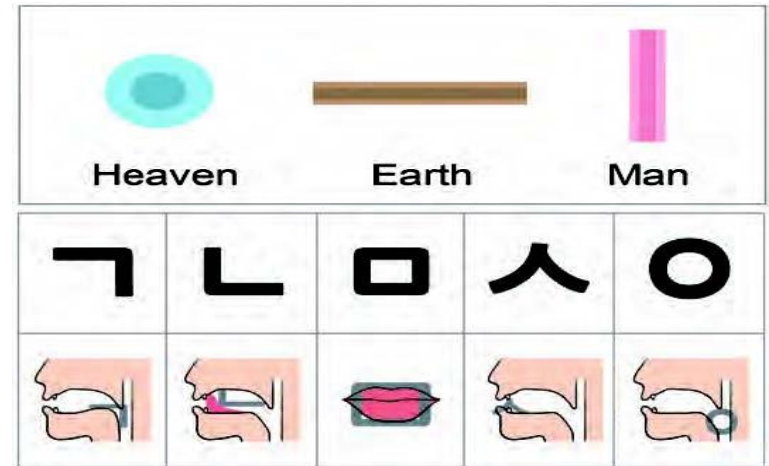


Dezvoltarea  
Economică a  
Coreei



### 3. Observații (propuneri) despre imaginea Coreei în manuale

Hangeul  
(alfabetul coreean)



Hallyu





감사합니다. Mulțumesc.